

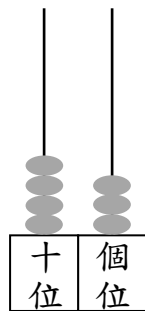


荃灣商會學校  
數學科 一年級下學期  
假期工作紙(暑假)

姓名： \_\_\_\_\_  
班別： \_\_\_\_\_  
日期： \_\_\_\_\_  
成績： \_\_\_\_\_

1. 19 這個數中，  
\_\_\_\_\_ 在十位，表示 \_\_\_\_\_。

2. 下圖算柱表示的數是 \_\_\_\_\_。



3. 依規律填寫數字。




4. 填寫「>」、「<」或「=」。

(a)  $34$  \_\_\_\_\_  $29$

(b)  $58$  \_\_\_\_\_  $61$

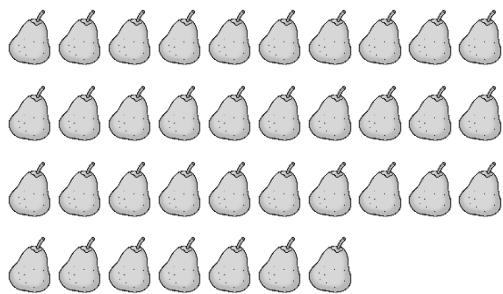
(c)  $33 + 5$  \_\_\_\_\_  $38$


5.



把上面的  每 2 輛一數，有 \_\_\_\_\_ 個 2，共有  \_\_\_\_\_ 輛。

6.



把上面的  每 10 個一數。可以分成 \_\_\_\_\_ 個 10 多 \_\_\_\_\_，共有 \_\_\_\_\_ 個。

7.

11 個 5 是 55，12 個 5 是 \_\_\_\_\_。

8.

黃老師把一袋波子每 5 粒一數，有 5 個 5 多 2。這袋波子有多少粒？

A. 25

B. 27

C. 52

9.

在  $18 - 1 = 17$  中，差是 \_\_\_\_\_。

10.




$$\begin{array}{r} 28 \\ + 13 \\ \hline \square \end{array}$$

11.

$$\begin{array}{r} 35 \\ - 15 \\ \hline \square \end{array}$$

12.


$5 + 22 = \underline{\hspace{2cm}}$

13.  $26 + 67 = \underline{\hspace{2cm}}$
14.  $11 + 23 + 35 = \underline{\hspace{2cm}}$
15.  $39 - 7 = \underline{\hspace{2cm}}$
16.  $44 - 40 = \underline{\hspace{2cm}}$
17.  $68 - 3 - 14 = \underline{\hspace{2cm}}$
18. 媽媽原有 14 粒 ，她吃了所有的 ，她還有          粒 。
19. 紙杯一包有 75 隻，其中黃色的有 32 隻，藍色的有 22 隻，餘下的都是紅色的。紅色的紙杯有          隻。
20. 一年級有 56 名男生和 43 名女生，男生比女生多          名。
21. 一寧和泳涵各有 18 枚郵票，兩人共有郵票多少枚？

(3%，列式計算)





22. 洋娃娃一個售 38 元，心穎有 15 元，她要買一個洋娃娃，還欠多少元？(3%，列式計算)




23. 填寫錢包內硬幣的總值。



\_\_\_\_\_ 元 \_\_\_\_\_ 角

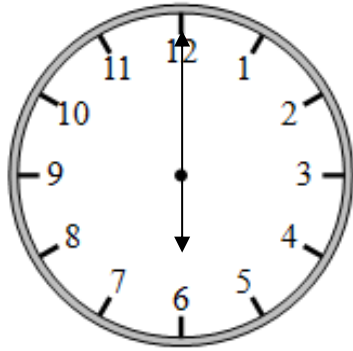
24. 一個  可換得 \_\_\_\_\_ 個  。

25. 圈出需付的硬幣。



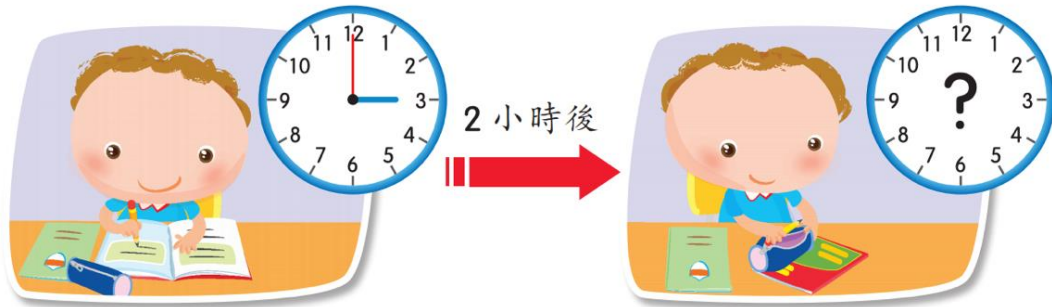
26. 寫出下圖時鐘所顯示的時間。

(a)



\_\_\_\_\_

27. 日軒在何時完成功課？



他在\_\_\_\_\_時正完成功課。

28. 超級市場現正進行大減價，每天都有一種特定的減價貨品。

Sunday 星期日	Monday 星期一	Tuesday 星期二	Wednesday 星期三	Thursday 星期四	Friday 星期五	Saturday 星期六
						

(a) 星期四的減價貨品是 \* (  /  /  ) 。

(\* 圈出答案)

(b) 如果今天的減價貨品是  。2 天前是星期\_\_\_\_\_。

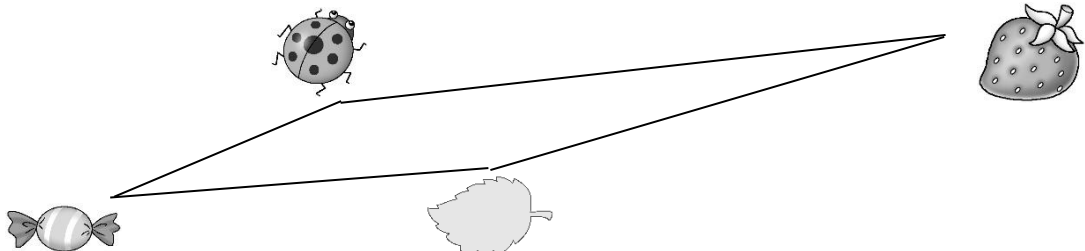
29. 根據月曆回答下列問題。

2018 年十二月						
星期日	星期一	星期二	星期三	星期四	星期五	星期六
						1
2	3	4	5	6	7	8
9	10	11	12	13	14	15
16	17	18	19	20	21	22
23	24	25	26	27	28	29
30	31					

(a) 心穎參加了逢星期五上課的烹飪班。烹飪班在 12 月 14 日開始，12 月份共有 \_\_\_\_\_ 堂烹飪班。

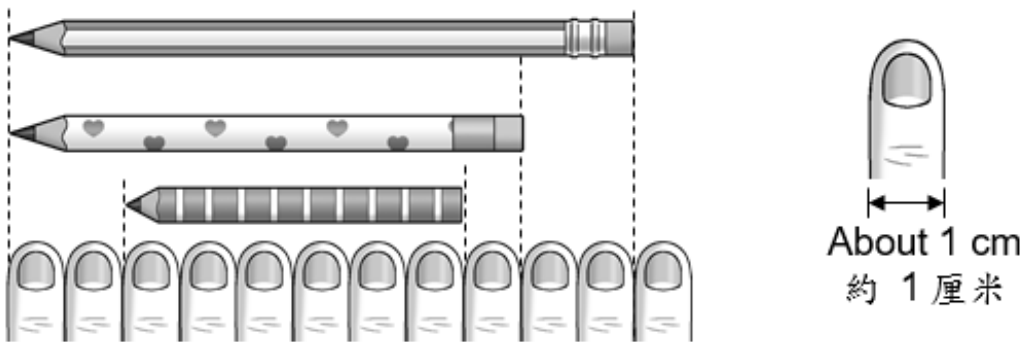
(b) 聖誕節假期於 12 月 24 日開始，一連 3 天，假期於 \_\_\_\_\_ 月 \_\_\_\_\_ 日結束。

30.



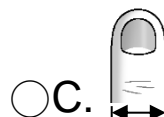
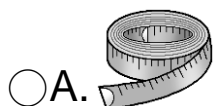
用間尺量度。🍬 和 🍃 的距離是 \_\_\_\_\_ 厘米。

31.

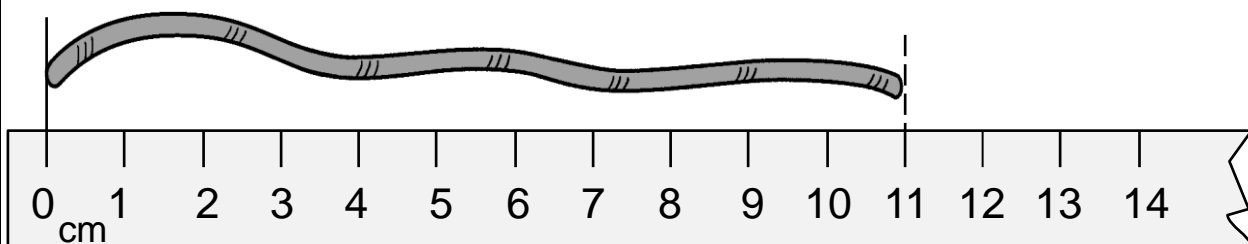


🖍️ 約長 \_\_\_\_\_ 厘米。

32. 以下哪一種最適合用來量度圍繞手臂一圈的長度？



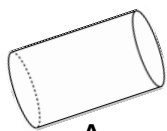
33.



上圖繩子的長度

- A. 是 11 厘米。
- B. 比 11 厘米短。
- C. 比 11 厘米長。

34. 觀察下面的立體圖形，寫出所有代表答案的英文字母。



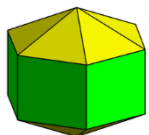
A




B



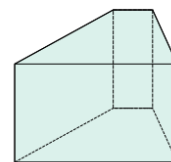
C



D



E



F

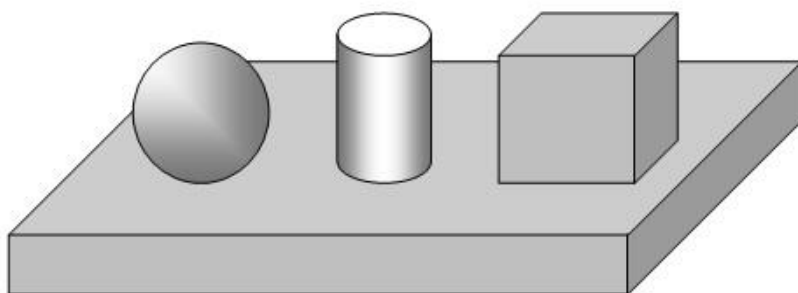
(a) 角柱：

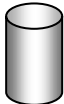



\_\_\_\_\_




(b) 球：

\_\_\_\_\_

35.



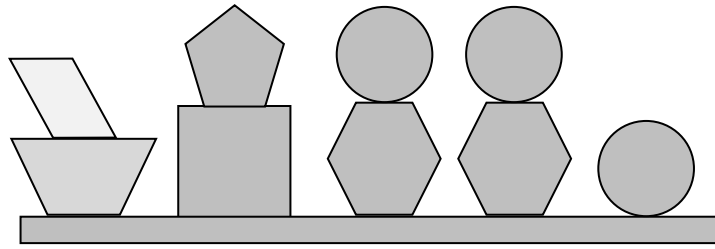
(a)  在 \* (  /  /  ) 的左面。(\* 圈出答案)



(b)  在  和  的 \* 中間 / 下 / 上 面。

(\* 圈出答案)



36.

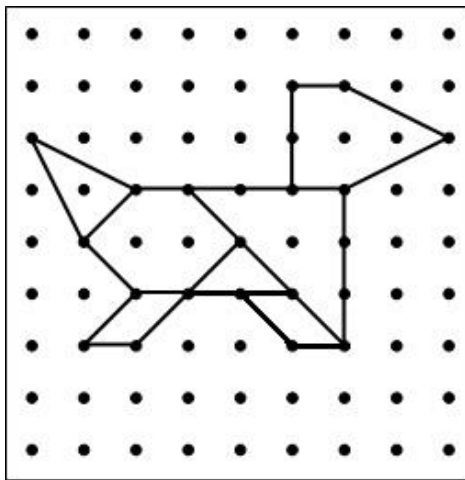


(a)  在  的 \* (左 / 右 / 上) 面。(\* 圈出答案)

(b) 上圖有 \_\_\_\_\_ 個四邊形。

(c) 上圖有 \_\_\_\_\_ 個五邊形。

37.



在上面釘板圍出的圖形中，共有多少個三角形？


A. 1

B. 2

C. 3

38. 經過兩點的直線 \* 只有一條 / 有很多條。(\* 圈出答案)

39. 在下面的方格內的線條上加上直線，組成一個英文字母。

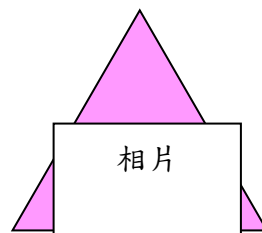
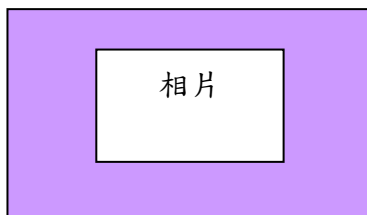

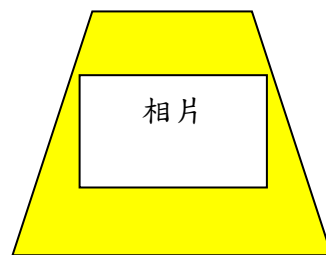
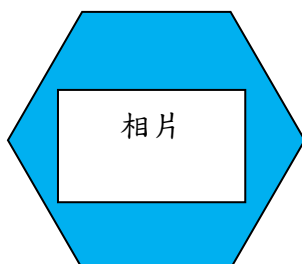
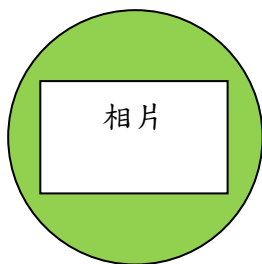


## 40. 設計思考題


### 我設計的相架

可選在下學期學過的形狀製作一個相架，同時利用報章或雜誌上不同的圓形、三角形、四邊形、五邊形和六邊形圖案貼在相架四周作裝飾，並為製作好的相架拍照，貼在下面的空格中。最後，數數你的作品中包含了多少個不同的形狀。

例子：



### 我設計的相架



你使用的圖形數量：

圓形：\_\_\_\_\_ 三角形：\_\_\_\_\_

正方形：\_\_\_\_\_ 長方形：\_\_\_\_\_

四邊形：\_\_\_\_\_ 五邊形：\_\_\_\_\_ 六邊形：\_\_\_\_\_